

[Click to Print](#) [logout](#)



Staff Selection Commission
(Government Of India)

REGISTRATION NUMBER : 8201032131

EXAM NAME : SSC MTS EXAMINATION, 2017

QID : 201 -

In the following question, select the number which can be placed at the sign of question mark (?) from the given alternatives.

निम्नलिखित प्रश्न में दिए गए विकल्पों में से प्रश्न चिह्न (?) के स्थान पर आने वाली संख्या को चुनिए।

7	4	2	14
3	5	6	15
6	1	4	?

Options:

1) 10

2) 11

3) 12

4) 14

Correct Answer: 12

QID : 202 -

How many triangles are there in the given figure?

दी गई आकृति में कितने त्रिभुज हैं?



Options:

1) 4

2) 6

3) 8

4) 10

Correct Answer: 8

QID : 203 -

A word is represented by only one set of numbers as given in any one of the alternatives. The sets of numbers given in the alternatives are represented by two classes of alphabets as shown in the given two matrices. The columns and rows of **Matrix-I** are numbered from 0 to 4 and that of **Matrix-II** are numbered from 5 to 9. A letter from these matrices can be represented first by its row and next by its column, for example, 'O' can be represented by 21, 66, etc., and 'L' can be represented by 23, 88, etc. Similarly, you have to identify the set for the word "TIGHT".

एक शब्द केवल एक संख्या-समूह द्वारा दर्शाया गया है, जैसा कि विकल्पों में से किसी एक में दिया गया है। विकल्पों में दिए गए संख्या-समूह अक्षरों के दो वर्गों द्वारा दर्शाए गए हैं, जैसा कि दिए गए दो आव्यूहों में है। **आव्यूह-I** के स्तम्भ और पंक्ति की संख्या 0 से 4 है और **आव्यूह-II** की 5 से 9। इन आव्यूहों से एक अक्षर को पहले उसकी पंक्ति और बाद में स्तम्भ संख्या द्वारा दर्शाया जा सकता है। उदाहरण के लिए 'O' को 21, 66, आदि द्वारा दर्शाया जा सकता है तथा 'L' को 23, 88, आदि द्वारा दर्शाया जा सकता है। इसी तरह से आपको प्रश्न में दिए शब्द "TIGHT" के लिए समूह को पहचानना है।

Matrix-I आव्यूह-I						Matrix-II आव्यूह-II					
	0	1	2	3	4		5	6	7	8	9
0	B	T	F	I	C	5	Z	U	J	S	G
1	R	E	I	M	T	6	H	O	Q	M	J
2	X	O	U	L	E	7	K	P	V	S	N
3	I	E	Z	B	G	8	E	G	O	L	R
4	S	H	B	O	J	9	T	F	X	O	A

Options:

1) 14, 03, 85, 65, 01

2) 01, 30, 85, 40, 95

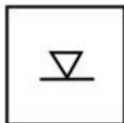
3) 95, 30, 86, 66, 23

4) 95, 12, 59, 65, 14

Correct Answer: 95, 12, 59, 65, 14**QID : 204 -**

From the given answer figures, select the one in which the question figure is hidden/embedded.

दी गई उत्तर आकृतियों में से उस उत्तर आकृति को चुनिए जिस में प्रश्न आकृति निहित है।



Options:

1)



2)



3)



4)



Correct Answer:



QID : 205 -


Which answer figure will complete the pattern in the question figure?

कौन सी उत्तर आकृति प्रश्न आकृति के प्रतिरूप को पूरा करेगी?




Options:

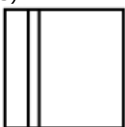
1)



2)



3)



4)



Correct Answer:**QID : 206 -**

If a mirror is placed on the line AB, then which of the answer figures is the right image of the given figure?

यदि एक दर्पण को AB रेखा पर रखा जाए, तो दी गई उत्तर आकृतियों में से कौन सी आकृति प्रश्न आकृति की सही प्रतिबिम्ब होगी?

**Options:**

1)



2)



3)



4)

**Correct Answer:**

QID : 207 -

A piece of paper is folded and punched as shown below in the question figures. From the given answer figures, indicate how it will appear when opened?

नीचे के प्रश्न आकृतियों में दिखाए अनुसार कागज को मोड़कर छेदने तथा खोलने के बाद वह किस उत्तर आकृति जैसा दिखाई देगा?

**Options:**

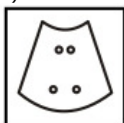
1)



2)



3)



4)

**Correct Answer:****QID : 208 -** What will come in place of question mark (?) in the given equation?**48 ? 32 ? 16 ? 64**

दिए गए समीकरण में प्रश्न चिह्न (?) का स्थान □ र क्या आएगा?

48 ? 32 ? 16 ? 64**Options:**

1) ÷, × and >

÷, × तथा >

2) +, ÷ and =

+, ÷ तथा =

3) -, = and +

-, = तथा +

4) ×, ÷ and >

×, ÷ तथा >

Correct Answer: ×, ÷ and >

×, ÷ तथा >

QID : 209 - If $64 \# 53 \times 2 = 13$ and $13 \# 7 \times 1 = 7$, then $4 \# 8 \times 19 = ?$

यदि $64 \# 53 \times 2 = 13$ तथा $13 \# 7 \times 1 = 7$ हो, तो $4 \# 8 \times 19 = ?$

Options:

- 1) 15
- 2) 23
- 3) - 31
- 4) - 39

Correct Answer: 15

QID : 210 - Arrange the given words in the sequence in which they occur in the dictionary.

1. Krill
2. Krone
3. Kraa
4. Kente
5. Kroon

निम्नलिखित शब्दों को शब्दकोश में आनाप्रानाक्रम काअनुसार लिखें।

1. Krill
2. Krone
3. Kraa
4. Kente
5. Kroon

Options:

- 1) 43125
- 2) 45123
- 3) 42135
- 4) 43251

Correct Answer: 43125

QID : 211 - In the following question, select the missing number from the given series.

103, 107, 105, 109, 107, 111, 109, ?

निम्नलिखित प्रश्न में दिए गए विकल्पों में सप्रसु अक ज्ञात कीजिए।

103, 107, 105, 109, 107, 111, 109, ?

Options:

- 1) 111
- 2) 113
- 3) 117
- 4) 107

Correct Answer: 113

QID : 212 - A series is given with one term missing. Select the correct alternative from the given ones that will complete the series.

D, F, I, M, R, ?

एक अनुक्रम दिया गया है, जिसमें सएक ाद लुप्त है। दिए गए विकल्पों में सप्रह सही विकल्प चुनिए, जो अनुक्रम को पूरा करण

D, F, I, M, R, ?

Options:

- 1) W
- 2) X
- 3) Y
- 4) Z

Correct Answer: X

QID : 213 - In the following question, select the odd word from the given alternatives.

निम्नलिखित प्रश्न में दिए गए विकल्पों में सप्रविषम शब्द को चुनिए।

Options:

- 1) Diary
डायरी
- 2) Paper
कागज
- 3) Pen
कलम
- 4) Copy
कॉपी

Correct Answer: Pen
कलम

QID : 214 - In the following question, select the odd number pair from the given alternatives.

निम्नलिखित प्रश्न में दिए गए विकल्पों में सविषम सख्या युग्म को चुनिए।

Options:

- 1) 20,8000
- 2) 30,27000
- 3) 40,64000
- 4) 50,25000

Correct Answer: 50,25000

QID : 215 - In the following question, select the odd letters from the given alternatives.

निम्नलिखित प्रश्न में दिए गए विकल्पों में सविषम अक्षरों को चुनिए।

Options:

- 1) HIG
- 2) LMK
- 3) STR
- 4) WXZ

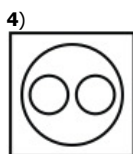
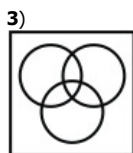
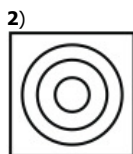
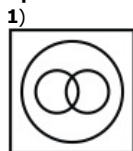
Correct Answer: WXZ

QID : 216 - Identify the diagram that best represents the relationship among the given classes.

Language, Hindi, English

वह आरख चुनिए जो नीचादिए गए वर्गों काबीच कासबबध का सही निरूपण करता है।

भाषा, हिन्दी, अंग्रेजी

Options:

Correct Answer:



QID : 217 - In the following question, select the related word from the given alternatives.

Doctor : Hospital :: Lawyer : ?

निम्नलिखित प्रश्न में दिए गए विकल्पों में सप्रसङ्ग शब्द को चुनिए।

चिकित्सक : अस्पताल :: वकील : ?

Options:

- 1) Black
काला
- 2) Court
न्यायालय
- 3) Justice
न्याय
- 4) None of these
इनमें सफ़ोई नहीं।

Correct Answer: Court

न्यायालय

QID : 218 - In the following question, select the related number from the given alternatives.

206 : 193 :: 309 : ?

निम्नलिखित प्रश्न में दिए गए विकल्पों में सप्रसङ्ग संख्या को चुनिए।

206 : 193 :: 309 : ?

Options:

- 1) 298
- 2) 294
- 3) 296
- 4) 290

Correct Answer: 296

QID : 219 - In the following question, select the related letters from the given alternatives.

FOG : GMJ :: REP : ?

निम्नलिखित प्रश्न में दिए गए विकल्पों में सप्रसङ्ग अक्षरों को चुनिए।

FOG : GMJ :: REP : ?

Options:

- 1) TCT
- 2) SBT
- 3) TBS
- 4) SCS

Correct Answer: SCS

QID : 220 - In the following question, select the word which cannot be formed using the letters of the given word.

ARGUABLE

निम्नलिखित विकल्पों में सप्रसङ्ग शब्द चुनिए जो दिए गए शब्द का अक्षरों का प्रयोग करके नहीं बनाया जा सकता।

ARGUABLE

Options:

- 1) ABLE
- 2) BLUE
- 3) BARE
- 4) SURGE

Correct Answer: SURGE

QID : 221 - W walks 13 km towards south. He turns left and walks 16 km. He turns left and walks 13 km. How far (in km) is he from his starting point?

W दक्षिण की ओर 13 कि.मी. चलता है। वह बायीं ओर मुड़ता है तथा 16 कि.मी. चलता है। वह बायीं ओर मुड़ता है तथा 13 कि.मी. चलता है। वह अपने आरंभिक बिन्दु से कितनी दूरी (कि.मी. में) पर है?

Options:

- 1) 13
- 2) 16
- 3) 29
- 4) $\sqrt{425}$

Correct Answer: 16**QID : 222** - Ken is 5 years younger to Ben. Ben is 2 years older to Sen. Sen is 7 years younger to Pen. Pen is 6 years older to Zen. Who is the eldest?

कम, बम सा 5 वर्ष छोटा है। बम, सन सा 2 वर्ष बड़ा है। सन, पन सा 7 वर्ष छोटा है। पन, जम सा 6 वर्ष बड़ा है। सबसे बड़ा कौन है?

Options:

- 1) Ken
- 2) Ben
- 3) Sen
- 4) Pen

Correct Answer: Pen**QID : 223** - In the following question below are given some statements followed by some conclusions. Taking the given statements to be true even if they seem to be at variance from commonly known facts, read all the conclusions and then decide which of the given conclusion logically follows the given statements.**Statements:**

- I. No red is green.
- II. No green is blue.

Conclusions:

- I. No red is blue.
- II. Some red are blue.

नीचा दिए गए प्रश्न में कुछ कथन और उनका बाद उन कथनों पर आधारित कुछ निष्कर्ष दिए गए हैं, हालांकि उनमें सामान्य ज्ञात तथ्यों सम्मिलित हो सकती है। सभी निष्कर्ष पढ़ें और फिर निर्धारित करें कि दिए गए कौन से निष्कर्ष, दिए गए कथनों का आधार पर युक्तिसंगत हैं।

कथन:

- I. कोई लाल हरा नहीं है।
- II. कोई हरा नीला नहीं है।

निष्कर्ष:

- I. कोई लाल नीला नहीं है।
- II. कुछ लाल नीले हैं।

Options:

- 1) Only conclusion (I) follows.
- 2) Only conclusion (II) follows.
- 3) Both conclusion follow.
- 4) Neither conclusion (I) nor conclusion (II) follows.

न तो निष्कर्ष (I) न ही निष्कर्ष (II) सही है।

Correct Answer: Neither conclusion (I) nor conclusion (II) follows.

न तो निष्कर्ष (I) न ही निष्कर्ष (II) सही है।

QID : 224 - In a certain code language, "MAZE" is written as "OCBG". How is "JUNK" written in that code language?

एक विशिष्ट कोड भाषा में, "MAZE" को "OCBG" लिखा जाता है। इस कोड भाषा में "JUNK" को किस प्रकार लिखा जाएगा?

Options:

- 1) LWOM
- 2) LWPM
- 3) KWOM
- 4) LVON

Correct Answer: LWPM**QID : 225** - In a certain code language, "DID" is written as "17" and "ATE" is written as "26". How is "AIM" written in that code language?

एक विशिष्ट कोड भाषा में, "DID" को "17" तथा "ATE" को "26" लिखा जाता है। इस कोड भाषा में "AIM" को किस प्रकार लिखा जाएगा?

Options:

1) 24

2) 23

3) 25

4) 22

Correct Answer: 23**QID : 226** - If the difference of two numbers is 4 and the difference of their squares is 64, then which is the smaller of the two number?

यदि दो सङ्ख्याओं का अंतर 4 है तथा उनके वर्गों का अंतर 64 है, तो दोनों में सङ्कोटी सङ्ख्या कौन सी है?

Options:

1) 10

2) 6

3) 4

4) 8

Correct Answer: 6**QID : 227** - What is the value of 0.03010?

0.03010 का मान क्या है?

Options:

1) 301/100

2) 301/1000

3) 301/10000

4) 301/100000

Correct Answer: 301/10000**QID : 228** - A number when divided by 12 leaves remainder 9 is obtained. What will be the remainder when the same number is divided by 3?

एक सङ्ख्या को जब 12 से भाग दिया जाता है तो शेषफल 9 प्राप्त होता है। उसी सङ्ख्या को जब 3 से भाग दिया जाए, तो शेषफल क्या होगा?

Options:

1) 1

2) 0

3) 2

4) 4

Correct Answer: 0**QID : 229** - If 8543P is completely divisible by 8, then what will be the digit in place of P?

यदि 8543P, 8 से पूर्णतः विभाजित है, तो P के स्थान पर कौन सा अङ्क आएगा?

Options:

1) 2

2) 4

3) 8

4) 6

Correct Answer: 2**QID : 230** - What is the HCF of 8, 12 and 15?

8, 12 तथा 15 का महत्तम समापवर्तक क्या है?

Options:

1) 1

2) 2

3) 3

4) 120

Correct Answer: 1**QID : 231** - What is the LCM of 4, 6 and 9?

4, 6 तथा 9 का लघुत्तम समापवर्त्य क्या है?

Options:

- 1) 18
- 2) 36
- 3) 1
- 4) 42

Correct Answer: 36**QID : 232** - Working 12 hours a day, Vaibhav can complete a piece of work in 28 days. How many hours a day should he work so as to finish the work in 21 days?

प्रतिदिन 12 घण्टा कार्य करके वैभव किसी कार्य को 28 दिनों में पूरा कर सकता है। कार्य को 21 दिनों में समाप्त करने के लिए उस प्रतिदिन कितने घण्टा काम करना होगा?

Options:

- 1) 12
- 2) 16
- 3) 15
- 4) 18

Correct Answer: 16**QID : 233** - A is twice as good as B and together they finish a piece of work in 24 days. In how many days can A alone to finish the work?

A की कार्य कुशलता B सादृश्या है तथा वदोनों मिलकर किसी कार्य को 24 दिनों में पूरा कर सकते हैं। A अकेला उस कार्य को कितने दिनों में पूरा कर सकता है?

Options:

- 1) 27
- 2) 36
- 3) 42
- 4) 48

Correct Answer: 36**QID : 234** - If the ratio of edges of two cubes is 2 : 3, then what is the ratio of the volume of the two cubes?

यदि दो घनों की भुजाओं का अनुपात 2 : 3 हो, तो दोनों घनों का आयतन का क्या अनुपात होगा?

Options:

- 1) 8 : 27
- 2) 4 : 9
- 3) 2 : 3
- 4) 4 : 27

Correct Answer: 8 : 27**QID : 235** - A trader allows two successive discounts of 20% and 10% while selling an article. If he gets Rs 720 for that article, then what is the marked price of the article?

एक विक्रेता किसी वस्तु को बखत समय 20% तथा 10% की दो क्रमिक छूट दता है। यदि कोई इस वस्तु 720 रु में प्राप्त करता है, तो वस्तु का अंकित मूल्य क्या है?

Options:

- 1) 1000
- 2) 1150
- 3) 960
- 4) 1200

Correct Answer: 1000**QID : 236** - What is the net discount for two successive discounts of 20% and 20%?

20% तथा 20% का दो क्रमागत छूट किस निवल (नए) छूट का बराबर है?

Options:

- 1) 36
- 2) 40
- 3) 42
- 4) 44

Correct Answer: 36

QID : 237 - If $6/7$ of $P = 4/5$ of Q , then what is $P : Q$?

यदि P का $6/7 = Q$ का $4/5$ हो, तो $P : Q$ क्या होगा?

Options:

1) 7 : 5

2) 14 : 7

3) 14 : 15

4) 8 : 7

Correct Answer: 14 : 15

QID : 238 - Two numbers are in ratio 3 : 7. If their difference is 60, then what is the smaller of the two numbers?

दो सङ्ख्याओं का अनुपात 3 : 7 है। यदि उनका अन्तर 60 है, तो दोनों में सङ्घोटी सङ्ख्या कौन सी है?

Options:

1) 45

2) 30

3) 60

4) 75

Correct Answer: 45

QID : 239 - The average of 5 numbers is 10 and that of other 20 numbers is 40. What is the average of all the numbers?

5 सङ्ख्याओं का औसत 10 तथा अन्य 20 सङ्ख्याओं का औसत 40 है। सभी सङ्ख्याओं का औसत क्या है?

Options:

1) 34

2) 40

3) 41

4) 45

Correct Answer: 34

QID : 240 - If chairs are bought at Rs 400 each and sold at Rs 500 each, then what will be the profit percentage?

यदि कुर्सियों को 400 रु प्रति कुर्सी की दर से खरीदकर 500 रु प्रति कुर्सी की दर से बिक्रय दिया जाता है, तो लाभ प्रतिशत क्या होगा?

Options:

1) 10%

2) 20%

3) 25%

4) 60%

Correct Answer: 25%

QID : 241 - A man gains 10% by selling an article for a certain price. If he sells it at double the price, then what will be the profit percentage?

एक वस्तु को किसी निश्चित मूल्य पर बिक्रय कर एक व्यक्ति 10% लाभ कमाता है। यदि वह उस वस्तु को दोगुनी कीमत पर बिक्रय तो लाभ का प्रतिशत क्या होगा?

Options:

1) 110

2) 120

3) 150

4) 140

Correct Answer: 120

QID : 242 - If income of A is 10% more than the income of B and the income of B is 20% more than the income of C, then the income of A is how much percent more than the income of C?

यदि A की आय, B की आय से 10% अधिक है तथा B की आय, C की आय से 20% अधिक है, तो A की आय, C की आय से कितना प्रतिशत अधिक होगी?

Options:

1) 10

2) 30

3) 32

4) 22

Correct Answer: 32**QID : 243** - If the price of an article is increased by 33.33%, then to restore its former value by what percent the new price should be decreased?

किसी वस्तु का मूल्य में 33.33% की वृद्धि की जाती है, तो पहला मूल्य को बनाए रखना के लिए नया मूल्य को कितना प्रतिशत कम करना होगा?

Options:

1) 20

2) 25

3) 10

4) 33.33

Correct Answer: 25**QID : 244** - Speed of a boat along the current and against the current are 16 km/hr and 14 km/hr respectively. What is the speed (in km/hr) of the current?

एक नाव की गति धारा के अनुकूल तथा धारा के प्रतिकूल दिशा में क्रमशः 16 कि.मी./घंटा तथा 14 कि.मी./घंटा है। धारा की गति (कि.मी./घंटा में) क्या है?

Options:

1) 1

2) 2

3) 3

4) 15

Correct Answer: 1**QID : 245** - A person goes from point J to K with a speed of 80 km/hr and returns back with a speed 120 km/hr. What is the average speed (in km/hr) of the person while going from J to K and coming back?

एक व्यक्ति 80 कि.मी./घंटा की रफ्तार से बिंदु J से K तक जाता है तथा 120 कि.मी./घंटा की गति से वापस लौटता है। J से K तक जाना तथा वापस आना में व्यक्ति की औसत गति (कि.मी./घंटा में) क्या है?

Options:

1) 90

2) 96

3) 100

4) 104

Correct Answer: 96**QID : 246** - An amount becomes 4 times in 2 years when kept in a scheme of simple interest. In how many years will it become 22 times?

एक धनराशि साधारण ब्याज वाली योजना में निवेश करने पर 2 वर्ष में 4 गुना हो जाती है। वह 22 गुना कितने वर्षों में हो जाएगी?

Options:

1) 10

2) 14

3) 12

4) 16

Correct Answer: 14

QID : 247 -

The table given below shows the imports and exports (in crore rupees) of Sugar for five consecutive years.

नीचे दी गई तालिका में पाँच क्रमागत वर्षों के लिए चीनी के आयात तथा निर्यात (करोड़ रुपए में) को दर्शाया गया है।

Year / वर्ष	Imports / आयात	Exports / निर्यात
Y1	508	465
Y2	615	509
Y3	556	368
Y4	925	628
Y5	828	465

In which year is the ratio of imports to exports the lowest?

किस वर्ष आयात तथा निर्यात का अनुपात सबसे कम है?

Options:

1) Y3

2) Y2

3) Y1

4) None of these

इनमें सफ़ोई नहीं

Correct Answer: Y1

QID : 248 -

The table given below shows the imports and exports (in crore rupees) of Sugar for five consecutive years.

नीचे दी गई तालिका में पाँच क्रमागत वर्षों के लिए चीनी के आयात तथा निर्यात (करोड़ रुपए में) को दर्शाया गया है।

Year / वर्ष	Imports / आयात	Exports / निर्यात
Y1	508	465
Y2	615	509
Y3	556	368
Y4	925	628
Y5	828	465

In which year is the ratio of export to imports the highest?

किस वर्ष निर्यात तथा आयात का अनुपात सबसे अधिक है?

Options:

1) Y1

2) Y2

3) Y3

4) None of these

इनमें सफ़ोई नहीं

Correct Answer: Y1

QID : 249 -

The table given below shows the imports and exports (in crore rupees) of Sugar for five consecutive years.

नीचे दी गई तालिका में पाँच क्रमागत वर्षों के लिए चीनी के आयात तथा निर्यात (करोड़ रुपए में) को दर्शाया गया है।

Year / वर्ष	Imports / आयात	Exports / निर्यात
Y1	508	465
Y2	615	509
Y3	556	368
Y4	925	628
Y5	828	465

What are the average yearly imports (in crore rupees)?

औसतन वार्षिक आयात (करोड़ रुपए में) कितना है?

Options:

- 1) 487
- 2) 686.4
- 3) 589.2
- 4) None of these

इनमें सफ़ाई नहीं।

Correct Answer: 686.4

QID : 250 -

The table given below shows the imports and exports (in crore rupees) of Sugar for five consecutive years.

नीचे दी गई तालिका में पाँच क्रमागत वर्षों के लिए चीनी के आयात तथा निर्यात (करोड़ रुपए में) को दर्शाया गया है।

Year / वर्ष	Imports / आयात	Exports / निर्यात
Y1	508	465
Y2	615	509
Y3	556	368
Y4	925	628
Y5	828	465

Which year shows the highest percentage change in the exports in comparison to previous year?

छलप्रर्ष की तुलना में, किस वर्ष निर्यात में सबसेअधिक प्रतिशत ँरिवर्तन हुआ है?

Options:

- 1) Y4
- 2) Y2
- 3) Y5
- 4) None of these

इनमें सफ़ाई नहीं।

Correct Answer: Y4

QID : 251 - In the following question, some part of the sentence may have errors. Find out which part of the sentence has an error and select the appropriate option. If a sentence is free from error, select 'No Error'.

The idea is to **(1)**/ attract and captive **(2)**/ your audience. **(3)**/ No Error **(4)**

Options:

- 1) 1
- 2) 2
- 3) 3
- 4) 4

Correct Answer: 2

QID : 252 - In the following question, some part of the sentence may have errors. Find out which part of the sentence has an error and select the appropriate option. If a sentence is free from error, select 'No Error'.

Their is an **(1)**/ added pressure to succeed if you have **(2)**/ put money in it. **(3)**/ No Error **(4)**

Options:

- 1) 1
- 2) 2
- 3) 3
- 4) 4

Correct Answer: 1

QID : 253 - In the following question, the sentence given with blank to be filled in with an appropriate word. Select the correct alternative out of the four and indicate it by selecting the appropriate option.

Peter _____ phoned since he went to America.

Options:

- 1) hasn't
- 2) didn't
- 3) wasn't
- 4) haven't

Correct Answer: hasn't

QID : 254 - In the following question, the sentence given with blank to be filled in with an appropriate word. Select the correct alternative out of the four and indicate it by selecting the appropriate option.

She is neither intelligent _____ laborious.

Options:

- 1) nor
- 2) or
- 3) none
- 4) no

Correct Answer: nor

QID : 255 - In the following question, out of the given four alternatives, select the one which best expresses the meaning of the given word.

Gasp

Options:

- 1) Fight for breath
- 2) Unblock
- 3) Unconstrict
- 4) Release

Correct Answer: Fight for breath

QID : 256 - In the following question, out of the given four alternatives, select the one which best expresses the meaning of the given word.

Over

Options:

- 1) Lie
- 2) Rest
- 3) Bygone
- 4) Settle

Correct Answer: Bygone

QID : 257 - In the following question, out of the given four alternatives, select the one which best expresses the meaning of the given word.

Deliberate**Options:**

- 1) Unwitting
- 2) Intended
- 3) Chance
- 4) Indeterminate

Correct Answer: Intended

QID : 258 - In the following question, out of the given four alternatives, select the one which is opposite in meaning of the given word.

Span**Options:**

- 1) Extent
- 2) Extreme
- 3) Length
- 4) Space

Correct Answer: Extreme

QID : 259 - In the following question, out of the given four alternatives, select the one which is opposite in meaning of the given word.

Trigger**Options:**

- 1) Set off
- 2) Produce
- 3) Activate
- 4) Halt

Correct Answer: Halt

QID : 260 - In the following question, out of the given four alternatives, select the one which is opposite in meaning of the given word.

Exhaustive**Options:**

- 1) Incomplete
- 2) Sweeping
- 3) Thorough
- 4) In-depth

Correct Answer: Incomplete

QID : 261 - In the following question, out of the four given alternatives, select the alternative which best expresses the meaning of the Idiom/Phrase.

Put into action**Options:**

- 1) Systematically
- 2) To execute
- 3) Irregularly
- 4) Rapidly

Correct Answer: To execute

QID : 262 - In the following question, out of the four given alternatives, select the alternative which best expresses the meaning of the Idiom/Phrase.

Do away with

Options:

- 1) Impossible
- 2) Invalid
- 3) To abolish
- 4) Empty

Correct Answer: To abolish

QID : 263 - Improve the bracketed part of the sentence.

The little girl (**fell from the roof**).

Options:

- 1) fell down the roof
- 2) fell off the roof
- 3) fell below the roof
- 4) No improvement

Correct Answer: No Correct Answer (Benefit to all)

QID : 264 - Improve the bracketed part of the sentence.

The train was late (**for**) forty minutes.

Options:

- 1) by
- 2) of
- 3) from
- 4) No improvement

Correct Answer: by

QID : 265 - In the following question, out of the four given alternatives, select the alternative which is the best substitute of the phrase.

A place where government public records are kept.

Options:

- 1) Archive
- 2) Elective
- 3) Locomotive
- 4) Furtive

Correct Answer: Archive

QID : 266 - In the following question, out of the four given alternatives, select the alternative which is the best substitute of the phrase.

That which lasts for a short time.

Options:

- 1) Preparatory
- 2) Declaratory
- 3) Circulatory
- 4) Transitory

Correct Answer: Transitory

QID : 267 - In the following question, a word has been written in four different ways out of which only one is correctly spelt. Select the correctly spelt word.

Options:

- 1) Arrangement
 - 2) Arrangement
 - 3) Arangement
 - 4) Arrangemant
- Correct Answer:** Arrangement

QID : 268 - In the following question, a word has been written in four different ways out of which only one is correctly spelt. Select the correctly spelt word.

Options:

- 1) Business
- 2) Biziness
- 3) Businuss
- 4) Business

Correct Answer: Business**QID : 269** - Rearrange the parts of the sentence in correct order.

Propensity to addiction

P: predisposition of the individual**Q:** in other words, is not a**R:** but the result of social contest**Options:**

- 1) PRQ
- 2) PQR
- 3) RPQ
- 4) QPR

Correct Answer: QPR**QID : 270** - Rearrange the parts of the sentence in correct order.

Environmental protection

P: and management is**Q:** deservedly attracting a lot**R:** of attention these days**Options:**

- 1) PQR
- 2) PRQ
- 3) QPR
- 4) RPQ

Correct Answer: PQR**QID : 271** - In the following passage some of the words have been left out. Read the passage carefully and select the correct answer for the given blank out of the four alternatives.

The birth of Lord Krishna marks the end of _____ and cruelty over mankind. Krishna is a _____ of righteousness. Sri Krishna was born at midnight of this day. Krishna Janmashtami is observed on the Ashtamitithi, the eighth day of the dark half or Krishna Paksha of the month of Shraavana. He is _____ as an avatar of the God Vishnu. The day is celebrated with great zeal _____ devotion. The Lord Krishna devotees observe fast for the entire day and night, _____ him.

Lord Krishna marks the end of _____

Options:

- 1) humanity
- 2) love
- 3) peace
- 4) inhumanity

Correct Answer: inhumanity**QID : 272** - In the following passage some of the words have been left out. Read the passage carefully and select the correct answer for the given blank out of the four alternatives.

The birth of Lord Krishna marks the end of _____ and cruelty over mankind. Krishna is a _____ of righteousness. Sri Krishna was born at midnight of this day. Krishna Janmashtami is observed on the Ashtamitithi, the eighth day of the dark half or Krishna Paksha of the month of Shraavana. He is _____ as an avatar of the God Vishnu. The day is celebrated with great zeal _____ devotion. The Lord Krishna devotees observe fast for the entire day and night, _____ him.

Krishna is a _____ of righteousness.

Options:

- 1) symbol
- 2) mode
- 3) mean
- 4) light

Correct Answer: symbol

QID : 273 - In the following passage some of the words have been left out. Read the passage carefully and select the correct answer for the given blank out of the four alternatives.

The birth of Lord Krishna marks the end of _____ and cruelty over mankind. Krishna is a _____ of righteousness. Sri Krishna was born at midnight of this day. Krishna Janmashtami is observed on the Ashtamitithi, the eighth day of the dark half or Krishna Paksha of the month of Shraavana. He is _____ as an avatar of the God Vishnu. The day is celebrated with great zeal _____ devotion. The Lord Krishna devotees observe fast for the entire day and night, _____ him.

He is _____ as an avatar of the God Vishnu.

Options:

- 1) located
- 2) observed
- 3) occurred
- 4) considered

Correct Answer: considered

QID : 274 - In the following passage some of the words have been left out. Read the passage carefully and select the correct answer for the given blank out of the four alternatives.

The birth of Lord Krishna marks the end of _____ and cruelty over mankind. Krishna is a _____ of righteousness. Sri Krishna was born at midnight of this day. Krishna Janmashtami is observed on the Ashtamitithi, the eighth day of the dark half or Krishna Paksha of the month of Shraavana. He is _____ as an avatar of the God Vishnu. The day is celebrated with great zeal _____ devotion. The Lord Krishna devotees observe fast for the entire day and night, _____ him.

The day is celebrated with great zeal _____

Options:

- 1) but
- 2) and
- 3) only
- 4) some

Correct Answer: and

QID : 275 - In the following passage some of the words have been left out. Read the passage carefully and select the correct answer for the given blank out of the four alternatives.

The birth of Lord Krishna marks the end of _____ and cruelty over mankind. Krishna is a _____ of righteousness. Sri Krishna was born at midnight of this day. Krishna Janmashtami is observed on the Ashtamitithi, the eighth day of the dark half or Krishna Paksha of the month of Shraavana. He is _____ as an avatar of the God Vishnu. The day is celebrated with great zeal _____ devotion. The Lord Krishna devotees observe fast for the entire day and night, _____ him.

entire day and night, _____ him.

Options:

- 1) cursing
- 2) finding
- 3) worshipping
- 4) missing

Correct Answer: worshipping

QID : 276 - What is the finance required to start a business is called?

व्यवसाय शुरू करनेकेलिए आवश्यक वित्त क्या कहलाता है?

Options:

- 1) Profit
लाभ
- 2) Income
आय
- 3) Capital
पूंजी
- 4) Resource
संसाधन

Correct Answer: Capital

पूंजी

QID : 277 - Which factor of production is abundant in India?

भारत में उत्पादन का कौन सा घटक प्रचुर मात्रा में है?

Options:

1) Machines

मशीनें

2) Labour

श्रमिक

3) Capital

पूंजी

4) Enterprise

उद्यम

Correct Answer: Labour

श्रमिक

QID : 278 - In which schedule of the Indian constitution 'names of the states and their territorial jurisdiction' has been told?

भारतीय सविधान काकिस अनुसूची में 'राज्य कानाम तथा सभ राज्य क्षत्र' काबारामें बताया है?

Options:

1) First Schedule

पहली अनुसूची

2) Second Schedule

दूसरी अनुसूची

3) Third Schedule

तीसरी अनुसूची

4) Fourth Schedule

चौथा अनुसूची

Correct Answer: First Schedule

पहली अनुसूची

QID : 279 - In which Article of the Indian Constitution is the definition of 'Rights to life and personal liberty' given?

भारतीय सविधान काकौन साअनुच्छेद में 'जीवन तथा दैहिक स्वतंत्रता काअधिकार' की व्याख्या दी गई है?

Options:

1) Article 25

अनुच्छेद 25

2) Article 26

अनुच्छेद 26

3) Article 21

अनुच्छेद 21

4) Article 24

अनुच्छेद 24

Correct Answer: Article 21

अनुच्छेद 21

QID : 280 - Which Mauryan ruler was the first to try to take his message to the people through inscriptions?

मौर्य वंश काऐसकौन सशासक थाजिन्होंनेअभिलेखों द्वारा जनता तक अपनासंदेश पहुंचानका प्रयास किया था?

Options:

1) Chandragupta Maurya

चन्द्रगुप्त मौर्य

2) Ashoka

अशोक

3) Bindusara

बिंदुसार

4) Bimbsara

बिम्बसार

Correct Answer: Ashoka

अशोक

QID : 281 - Before 1905, which was the biggest province of British India?

1905 सपहलेब्रिटिश भारत का सबसेबड़ा प्रांत कौन सा था?

Options:

- 1) Madras
मद्रास
- 2) Hyderabad
हैदराबाद
- 3) Delhi
दिल्ली
- 4) Bengal
बंगाल

Correct Answer: Bengal

बंगाल

QID : 282 - How long does the earth takes to rotate 1°?

पृथ्वी कितना समय में 1° घूम जाती है?

Options:

- 1) 4 minute
4 मिनट
- 2) 15 minute
15 मिनट
- 3) 36 minute
36 मिनट
- 4) 24 minute
24 मिनट

Correct Answer: 4 minute

4 मिनट

QID : 283 - What is the position of Jupiter from the Sun among the eight planets?

आठ ग्रहों में बृहस्पति सूर्य साक्रौन सप्रस्थान पर स्थित है?

Options:

- 1) First
पहला
- 2) Second
दूसरा
- 3) Third
तीसरा
- 4) Fifth
पांचवा

Correct Answer: Fifth

पांचवा

QID : 284 - Which among the following is not an example of aquatic habitat?

निम्नलिखित में साक्रौन सा एक जलीय आवास का एक उदाहरण नहीं है?

Options:

- 1) Ponds
जलाशय
- 2) Swamps
दल-दल
- 3) Lakes
झील
- 4) Forests
वन

Correct Answer: Forests

वन

QID : 285 - Phloem always flows from a _____.

फ्लोएम सदैव प्रवाहित _____ होता है।

Options:

- 1) carbohydrate source to carbohydrate sink
कार्बोहाइड्रेट स्रोत सकार्बोहाइड्रेट कुण्ड तक
- 2) carbohydrate sink to carbohydrate source
कार्बोहाइड्रेट कुण्ड सकार्बोहाइड्रेट स्रोत तक
- 3) root to leaf
जड़ सत्तियों तक
- 4) trunk leaf
तनसत्तियों तक

Correct Answer: carbohydrate source to carbohydrate sink
कार्बोहाइड्रेट स्रोत सकार्बोहाइड्रेट कुण्ड तक

QID : 286 - Thromoboplastin, required in blood clotting, is secreted by _____.

रक्त का थक्का जमानेकेलिए आवश्यक थ्रोम्बोप्लास्टिन का सावण _____ करता है।

Options:

- 1) monocytes
मोनोसाइट
- 2) lymphocytes
लिम्फोसाइट
- 3) erythrocytes
एरिथ्रोसाइट
- 4) platelets
प्लेटलेट्स

Correct Answer: platelets
प्लेटलेट्स

QID : 287 - What is the ray that comes back from the surface after reflection called?

एक सत्तारावर्तन केपश्चात वापस आनेवाली प्रकाश किरण को क्या कहतेहैं?

Options:

- 1) Incident ray
आगत किरण
- 2) Refracted ray
अवर्तित किरण
- 3) Reflected ray
परावर्तित किरण
- 4) Diffused ray
विसरित किरण

Correct Answer: Reflected ray
परावर्तित किरण

QID : 288 - A _____ is a safety device which prevents damages to electrical circuits and possible fires.

_____ एक सुरक्षा युक्ति है, जो विद्युत परिपथ की क्षति तथा सम्भावित आग केप्रति सुरक्षा प्रदान करता है।

Options:

- 1) Filament
तंतु
- 2) Battery
बैटरी
- 3) Cell
सल्ल
- 4) Fuse
फ्यूज

Correct Answer: Fuse
फ्यूज

QID : 289 - Which of the following function are performed by ALU of a computer?

निम्न में सफ़रौन सी कार्य कंप्यूटर काए. एल. यू. द्वारा किया जाता है?

Options:

- 1) Arithmetic Operations
अंक गणित ऑपरेशन
- 2) Logic operations
तर्क सञ्चत ऑपरेशन
- 3) Both Arithmetic and Logical operations
अंक गणित तथा तर्क सञ्चत ऑपरेशन दोनों
- 4) Storage of Data
ऑकड़ों का भण्डारण

Correct Answer: Both Arithmetic and Logical operations
अंक गणित तथा तर्क सञ्चत ऑपरेशन दोनों

QID : 290 - On heating, solid is directly converted into gaseous state. This process is called _____.

गर्म करने पर, ठोस सीधे गैसीय अवस्था में परिवर्तित होता है इस प्रक्रिया को _____ कहा जाता है।

Options:

- 1) Sublimation
ऊर्ध्वपातक
- 2) Evaporation
वाष्पीकरण
- 3) Diffusion
विसरण
- 4) Condensation
सघनन

Correct Answer: Sublimation
ऊर्ध्वपातक

QID : 291 - Which of the following is least compressible?

निम्नलिखित में से सबसे कम संपीड्य है?

Options:

- 1) Gas
गैस
- 2) Liquid
द्रव्य
- 3) Solid
ठोस
- 4) None of these
इनमें से कोई नहीं

Correct Answer: Solid
ठोस

QID : 292 - Predator is an organism that eats its _____.

शिकारी एक जीव है जो अपना _____ को खाता है।

Options:

- 1) prey
शिकार
- 2) grabage
कचरा
- 3) itself
अपना
- 4) None of these
इनमें से कोई नहीं

Correct Answer: prey
शिकार

QID : 293 - In which state the programme, UDAAN which aims to provide skill training and enhance the employability of unemployed youth is implemented?

किस राज्य का बशोजगार युवाओं की रोजगार क्षमता में वृद्धि लाने के लिए यू. डी. ए. एन एक कार्यक्रम है जिसका उद्देश्य कौशल प्रशिक्षण प्रदान करना है?

Options:

- 1) Jammu and Kashmir
जम्मू और कश्मीर
- 2) Assam
असम
- 3) Kerala
केरल
- 4) Bihar
बिहार

Correct Answer: Jammu and Kashmir

जम्मू और कश्मीर

QID : 294 - Who discovered the phenomenon of Photoelectric emission?

फोटो इलेक्ट्रिक प्रभाव की घटना की खोज किसने की?

Options:

1) Heinrich Hertz

हेनरिक हर्ट्ज़

2) De Broglie

डी ब्रोगली

3) Benjamin Franklin

बेंजामिन फ्रैंकलिन

4) Olaus Roemer

ओलॉस रोमर

Correct Answer: Heinrich Hertz

हेनरिक हर्ट्ज़

QID : 295 - Which Indian player won the 2017 Australian Open Super series badminton title?

किस भारतीय खिलाड़ी ने 2017 ऑस्ट्रेलियन ओपन सुपर बैडमिंटन खिताब जीता?

Options:

1) Srikanth Kidambi

श्रीकांत किदंबी

2) Parupalli Kashyap

पारुपल्ली कश्यप

3) Prannoy Kumar

प्रणोय कुमार

4) B. Sai Praneeth

बी. साई प्राणित

Correct Answer: Srikanth Kidambi

श्रीकांत किदंबी

QID : 296 - In which state are 'Patachitra paintings' found?

किस राज्य में 'पतचित्र चित्रकारी' पाई जाती है?

Options:

1) Kerala

करल

2) Goa

गोआ

3) Odisha

ओडिशा

4) Haryana

हरियाणा

Correct Answer: Odisha

ओडिशा

QID : 297 - Which hockey player has been awarded with 2017 Dhyanchand Award?

किस हॉकी खिलाड़ी को 2017 ध्यानचंद पुरस्कार से सम्मानित किया गया है?

Options:

1) Dhanraj Pillay

धनराज पिल्लै

2) Sandeep Singh

सदीप सिंह

3) Sumarai Tete

सुमाराई टेते

4) None of these

इनमें से कोई नहीं

Correct Answer: Sumarai Tete

सुमाराई टेते

QID : 298 - Who is the author of the book named "Pakistan: the Gathering Storm"?

"पाकिस्तान: द गैदरिंग स्टोर्म" नामक पुस्तक की लेखक कौन हैं?

Options:

1) Benazir Bhutto

बेनज़ीर भुट्टो

2) Salman Rushdie

सलमान रुश्दी

3) Parvez Mushraf

परवज़ मुशर्रफ

4) Imran Khan

इमरान खान

Correct Answer: Benazir Bhutto

बेनज़ीर भुट्टो

QID : 299 - Which is the fifth preference category under the employment based immigration visa also called as 'Green Card for Greenback' scheme?

'ग्रीन कार्ड फॉर ग्रीन बैक' योजना भी कहलानवाली रोजगार आधारित अप्रवासन वीजाओफ़ अमर्गत पाँचवा अधिकतम वर्ग कौन सा है?

Options:

1) EB-5

2) H1B

3) HB-5

4) None of these

इनमें सफ़ोई नही

Correct Answer: EB-5**QID : 300** - Against India's which neighbouring country the Britain used Indian Sepoys and the British Indian Army in opium wars?

ब्रिटन नभारत काकिस दशा काविरुद्ध भारतीय सिपाहीयों तथा ब्रिटिश इंडियन आर्मी का उपयोग ओपियम युद्ध में किया था?

Options:

1) Pakistan

पाकिस्तान

2) China

चीन

3) Nepal

नपाल

4) Bhutan

भूटान

Correct Answer: China

चीन