



SHAKTHI ACADEMY

Increasing Confidence ; Reaching Goals

21.5.2017 வினாத்தாள்

1.கொடுக்கப்பட்டுள்ள தொடரில் சேராத எண் எது?

3,5,11,14,17,21

1.21

2.17

3.14

4.3

2.1 முதல் 100 வரை எல்லா எண்களையும் எழுதினால் எத்வாடனிய முறை 3 ஐ எழுதுவீர்கள்?

1.11

2.18

3.20

4.21

3.கொடுக்கப்பட்ட தொடரில் அடுத்த எண் எது?

2,3,5,8,12,17, _____

1.19

2.23

3.22

4.21

4.காலியான இடத்தில் வரும் எண் எது?

20,19,17 _____ 10,5

1.15

2.13

3.16

4.14

5.மற்றவைகளிலிருந்து வித்தியாசமான வார்த்தை எது?



SHAKTHII ACADEMY

Increasing Confidence ; Reaching Goals

தக்காளி,காரட்,இஞ்சி,உருளை

1.தக்காளி 2.காரட் 3.இஞ்சி 4.உருளை

6.எட்டு நண்பர்கள் A,B,C,D,E,F,G,H வட்டமாக மையத்தை நோக்கி அமர்ந்துள்ளனர். B என்பவர் G க்கும் D-க்கும் இடையே அமர்ந்திருக்கிறார். H என்பவர் B-க்கு இடதுபுறம் 3 ஆவது A க்கு வலப்புறம் இரண்டாவதும் உள்ளார். C,A க்கும் G-க்கும் இடையே உள்ளார். B,E எதிரும் புதிராக இல்லை. எந்த கூற்று தவறானது?

1.C என்பவர் D க்கு வலதுபுறம் மூன்றாவதாக உள்ளார்

2.A என்பவர் C,F க்கும் இடையே உள்ளார்

3.D,A எதிரும் புதிருமாக உள்ளனர்

4.E என்பவர் F,D க்கு இடையே உள்ளார்

1.1

2.2

3.3

4.4

7.அன்வர் ஒரு வேலையை 12 நாட்களில் செய்வார். அவர் 3 நாட்கள் வேலை செய்துள்ளார். இப்பொழுது பாபு அவரோடு சேர இருவரும் சேர்ந்து 3 நாட்களில் முடிக்கின்றனர். பாபு மட்டும் வேலை செய்தால் எவ்வளவு நாட்கள் எடுத்துக் கொள்வார்?

1.6 நாட்கள்

2.12 நாட்கள்

3.8 நாட்கள்

4. 4 நாட்கள்

8.கேள்விக்குறி உள்ள இடத்தை நிரப்புக:

3 1 4

7 2 9



SHAKTHII ACADEMY

Increasing Confidence ; Reaching Goals

1 5 ?

1.8 2.6 3.1 4.3

9. ஒரு பழ வியாபாரி அவரிடமிருந்த ஆப்பிள்களில் 40% விற்கிறார். 420 ஆப்பிள்களை விற்பனை செய்யவில்லை. அவரிடம் மொத்தம் எவ்வளவு ஆப்பிள்கள் இருந்தன.?

1.588 2.600 3.672 4.700

10. ஒருவர் 5 ரூபாய்க்கு 3 முட்டைகள் என்று வாங்கி, 12 ரூபாய்க்கு 5 முட்டைகள் என்று விற்கிறார். அவர் மொத்தம் ரூ. 143 லாபம் சம்பாதித்தால் அவர் எத்தனை முட்டைகள் வாங்கினார்?

1.210 2.200 3.195 4.190

11. எந்த வரைபடம் நீதிபதி, திருடர்கள், குற்றவாளிகள் இடையே உள்ள உறவைக் குறிக்கிறது.



1.1

2.2

3.3

4.4



SHAKTHII ACADEMY

Increasing Confidence ; Reaching Goals

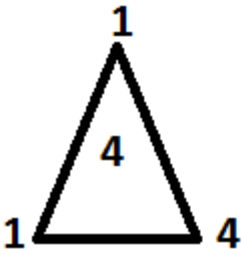
12.பாட்டனார் பேரனை விட நான்கு மடங்கு வயதானவர்.5 ஆண்டுகளுக்கு முன்பு அவர் 5 மடங்கு வயதானவராக இருந்தார்.பேரனின் தற்போதைய வயது என்ன?

1.12 15 3.18 4.20

13.அருணின் வயது பாலாவை விட மூன்று மடங்கு, நான்கு வருடங்கள் முன் சந்திரனின் வயது அருணை விட இருமடங்கு, இன்னும் 4 வருடங்களின் பின் அருணின் வயது 51. பாலா மற்றும் சந்திரனின் தற்போதைய வயது என்ன?

1.9,46 2.9,50 3.10,46 4.10,50

14.கேள்விக்குறியை நிரப்பும் எண் எது?




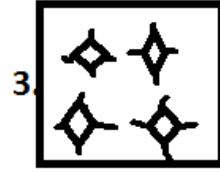
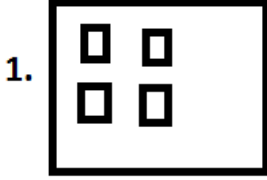
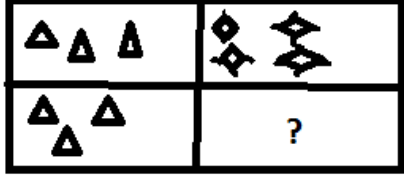
1.12 2.10 3.9 4.20

15.கேள்விக்குறியை நிரப்பும் படம் எது?



SHAKTHII ACADEMY

Increasing Confidence ; Reaching Goals



1.1

2.2

3.3

4.4

16.i. அம்பிகா ராஜாவை விட மூத்தவர். ii. அம்பிகாவை விட பிரகாஷ் மூத்தவர். iii. பிரகாஷை விட மூத்தவர் ராஜா. iv. முதல் இரண்டு கூற்றுகள் சரி என்றால் மூன்றாவது கூற்று.

1. உண்மை 2. தவறு 3. நிலையற்றது 4. போதுமான தகவல்கள் இல்லை

17.70 பேர் கொண்ட குழுவில் அனைவரும் தமிழ், ஆங்கிலம் அல்லது இரண்டும் பேசுவர். 35 பேர் தமிழ் மட்டும் பேசுவர். 25 பேர் இரண்டு மொழிகளையும் பேசுவர். ஆங்கிலம் மட்டும் பேசுவோர் எண்ணிக்கை என்ன?

1.40

2.20

3.15

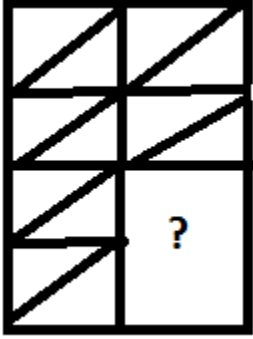
4.10

18. நிறைவு செய்யும் படம் எது?



SHAKTHII ACADEMY

Increasing Confidence ; Reaching Goals



1.1

2.2

3.3

4.4

19.PARTS : STRAP

WOLF : ?

1.FOX

2.ANIMAL

3.WOOD

4.FLOW

20.அர்ஜீன் ஒரு பெண்ணைப் பற்றி இவ்வாறு கூறினார். “இவருடைய பேத்தி என் சகோதரரின் ஒரே மகள்” அர்ஜீனுடன் பெண்ணின் உறவு என்ன?

1.சகோதரி

2.பாட்டி

3.மாமியார்

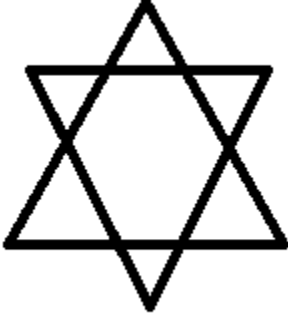
4.தாய்

21.கொடுக்கப்பட்ட வரைபடத்தில் எத்தனை முக்கோணங்கள் உள்ளன?



SHAKTHII ACADEMY

Increasing Confidence ; Reaching Goals



1.5

2.6

3.8

4.10

22.கீழே கொடுக்கப்பட்டுள்ள வார்த்தைகளை அர்த்தமுள்ள வரிசையில் அமைக்கவும்.

1.காவல்துறை 2.தண்டனை 3.குற்றம் 4.நீதிபதி 5.தீர்ப்பு

1.3,1,2,4,5 2.1,2,4,3,5 3.5,4,3,2,1 4.3,1,4,5,2

23.ஒரு மனிதன் தெற்கு நோக்கி 5KM நடந்து,வலப்புறம் திரும்பி 3 KM நடந்து பிறகு இடப்பக்கம் திரும்பி 5KM நடக்கிறான்.அவன் எந்த திசையை நோக்கிக் கொண்டிருக்கிறார்?

1.மேற்கு 2.தெற்கு 3.வடகிழக்கு 4.தென்மேற்கு

24.மாலை நேரத்தில் ரேகாவும் ஹேமாவும் ஒருவரை ஒருவர் நேர் பார்த்துக் கொண்டு பேசிக் கொண்டிருக்கிறார்கள். ஹேமாவின் நிழல் அவர் வலப்பக்கத்தில் விழுந்தால் ரேகா எந்த திசையை நோக்கிக் கொண்டிருக்கிறார்?



SHAKTHI ACADEMY

Increasing Confidence ; Reaching Goals

1.வடக்கு 2.தெற்கு 3.கிழக்கு 4.மேற்கு

25.கொடுக்கப்பட்ட தொடரில் அடுத்த எண் என்ன?

22,21,23,22,24,23,_____

1.22 2.24 3.25 4.26

26.ஒரு குறிப்பிட்ட மொழியில் HARD = 1357 என்றும் SOFT = 2468 என்றும் உள்ளன. 21448 எந்த வார்த்தையைக் குறிக்கும்?

1.SHAFT 2.SHOOT 3.RAFTS 4.ROOTS

27.ஒரு திங்கட்கிழமை இன்றிலிருந்து 61-வது நாள் என்ன கிழமையில் இருக்கும்?

1.புதன் கிழமை 2.சனிக்கிழமை 3.செவ்வாய்க்கிழமை 4.வியாழக்கிழமை

28.ஒரு நாள் கிரிக்கெட் போட்டியில் ஒரு அணியின் மொத்த ரன்கள் 200. இவற்றில் 160 ரன்கள் ஸ்பின்னர்களால் எடுக்கப்பட்டது. இந்த கூற்றுகளின் பேரே இரண்டு முடிவுகள் கொடுக்கப்பட்டுள்ளன. எந்த விடை சரியானது?

முடிவு: 1.அணியில் 80% ஸ்பின்னர்கள் உள்ளனர்

முடிவு 2 : தொடக்க வீரர்கள் ஸ்பின்னர்கள்

1.முதல் முடிவு மட்டும் 2.இரண்டாம் முடிவு மட்டும்

3.முதல் அல்லது இரண்டாம் முடிவு



SHAKTHII ACADEMY

Increasing Confidence ; Reaching Goals

4. இரண்டு முடிவுகளும் சரியில்லை

29. 2/7 -ன் என்ன சதவிகிதம் 1/35 ஆகும்..

1.2.5% 2.10% 3.25% 4.20%

30. கேள்விக்குறியை நிரப்பும் எழுத்து எது?

E M H

N O A

I ? D

1.P 2.M 3.E 4.N

Video Class Available Link : <https://shakthiiacademy.com/online-classes-for-you/>

Subscribe Our Youtube Channel : ["Shakthii Academy"](#)

For more Details : Call / Whatsapp : 9884 2222 49



SHAKTHII ACADEMY

Increasing Confidence ; Reaching Goals

Shakthii